




2 Bekijk de tabel. Maak de beeldgrafiek af en geef antwoord.

Aantal bezoekers per attractie pretpark Droomland op 10 juni

	volwassenen	kinderen
achtbaan	850	400
doolhof	500	700
bobslee	400	350
schommelschip	900	150

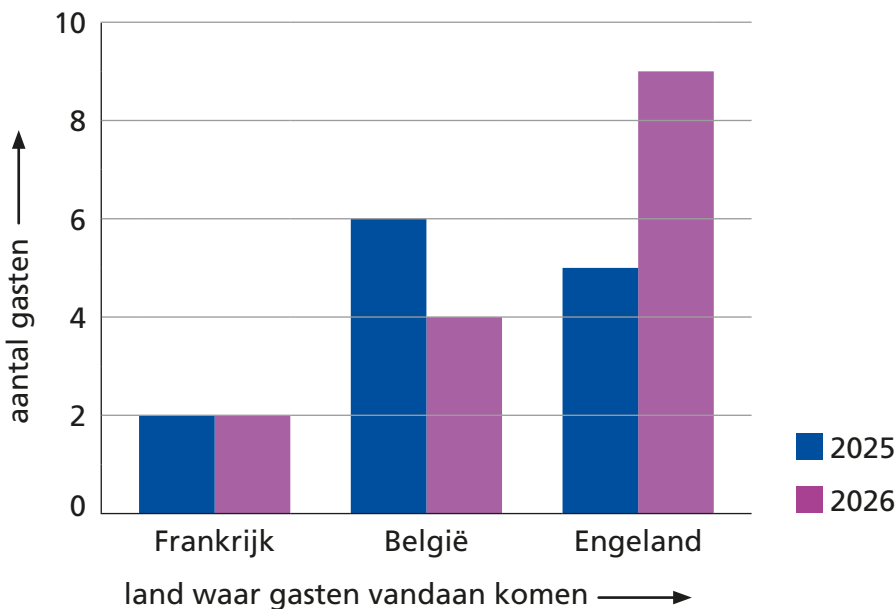


 = 100 volwassenen
 = 100 kinderen

Hoeveel bezoekers gingen er in totaal in de bobslee? _____
 In welke attractie gingen meer kinderen dan volwassenen? _____
 Welke attractie had in totaal de meeste bezoekers? _____

3 Lees de staafgrafiek af. Vul de tabel in.

Aantal buitenlandse gasten op camping Duinhoek




	2025	2026
Frankrijk	_____	_____
België	_____	_____
Engeland	_____	_____

4

Lees de beeldgrafiek af. Geef antwoord.

Resultaten vogeltelling op 25 januari



 = 2000 huismussen

 = 2000 koolmezen

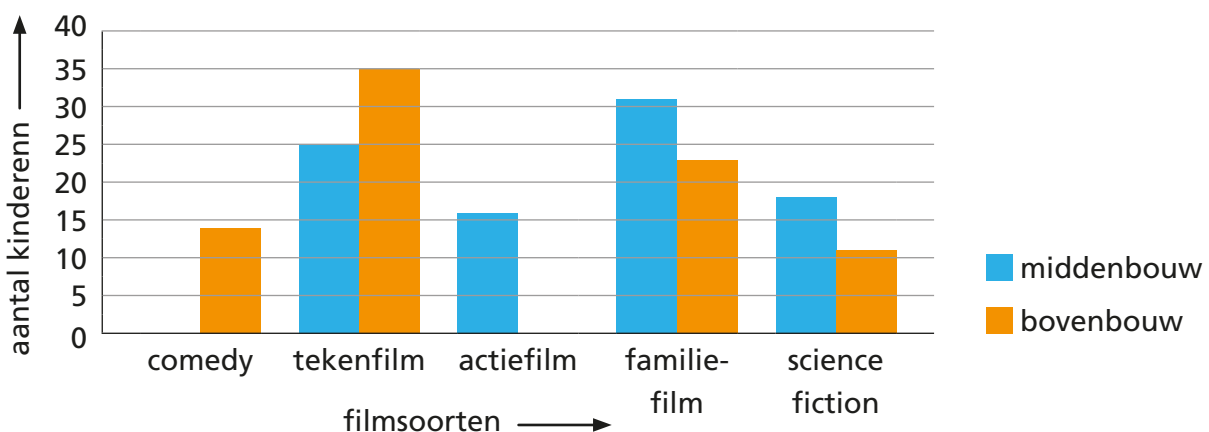
- Welk aantal vogels hoort bij een halve vogel? _____ vogels
- Hoeveel koolmezen zijn er geteld in Friesland? _____ koolmezen
- In welke provincie zijn de minste huismussen geteld? _____
- In welke provincie zijn de meeste vogels geteld? _____

5

Bekijk de tabel. Maak de staafgrafiek af en geef antwoord.

Favoriete soort film

	middenbouw	bovenbouw
comedy	29	14
tekenfilm	25	35
actiefilm	16	37
familiefilm	31	23
science fiction	18	11



- Welke soort film is favoriet bij de meeste kinderen in de bovenbouw? _____
- Welke soort film is favoriet bij de meeste kinderen in de middenbouw en bovenbouw samen? _____
- Wat is de minst favoriete soort film van de kinderen in de middenbouw en bovenbouw samen? _____
- Bij welke soort film is het verschil tussen de middenbouw en bovenbouw het grootst? _____

